

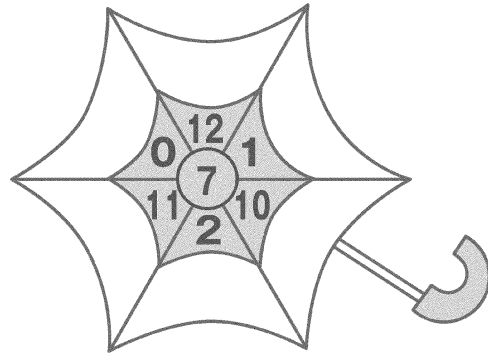
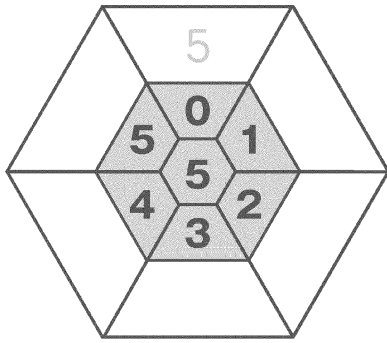


「けいさん」のもんだいだよ！

けいさんもんだい  
☆計算問題にチャレンジ☆

1 まん中の <sup>なか</sup>かずに まわりの <sup>か</sup>ずを たしましょう。

〈小1レベル〉



2 ひき算をしましょう。

〈小2レベル〉

① 
$$\begin{array}{r} 74 \\ - 68 \\ \hline \end{array}$$

② 
$$\begin{array}{r} 111 \\ - 33 \\ \hline \end{array}$$

3 かけ算をしましょう。

〈小3レベル〉

① 
$$\begin{array}{r} 262 \\ \times 4 \\ \hline \end{array}$$

② 
$$\begin{array}{r} 607 \\ \times 62 \\ \hline \end{array}$$

4 わり算をしましょう。

〈小4, 小5レベル〉

〈小4〉  
①

$$8 \overline{)936}$$

〈小5〉  
②

$$2.5 \overline{)0.4}$$

5 計算をしましょう。

〈小4~小6レベル〉

〈小4〉①  $49 \div 7 + 3 \times 13$

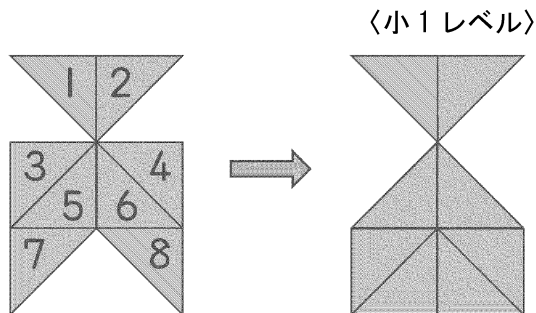
〈小5〉②  $2\frac{1}{7} \times 3 \div 5$

〈小6〉③  $4 \div 6 \times 18 \div 12$

ずけいもんだい  
 ☆図形問題にチャレンジ☆

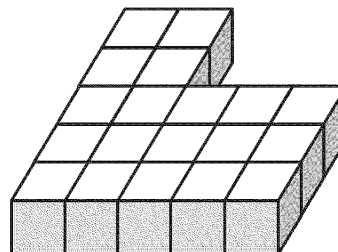
6 いろいたを 2まい うごかして  
 かたちを かえました。

どの ばんごうの いろいたを  
 うごかしましたか。



7 つみ木はいくつありますか。

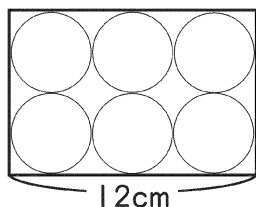
〈小2レベル〉



8 長方形の中に、同じ大きさの円が  
 きちんと6つ入っています。

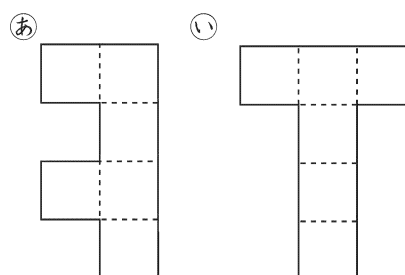
円の半径は何cmですか。

〈小3レベル〉



9 立方体の展開図はどちらですか。

〈小4レベル〉



10 色のついた部分について、次の問いに答えましょう。(円周率は3.14)

① まわりの長さを求めましょう。

〈小5レベル〉

② 面積を求めましょう。

〈小6レベル〉

